





Formblatt Bemessung 1.1 – ein Gasgerät

Geräteanschlussarmatur wählen



1 _____		$\Delta p_{ges.}$	Gesamtdruckverlust Fließweg a-b-1
_____ kW		Δp_{GA}	Druckverlust der Geräteanschlussarmatur
H= _____ m		$\Delta p_H = -4 \times H$	Druckgewinn durch Höhe
$\frac{kW}{Pa/m}$ _____ m		$\Delta p_R = R \times l_R$	

